

**KPSS LİSANS
DENEME
SINAVI**

GENEL YETENEK

1. Yabancı ülkelerde sesini duyurmak isteyen bir sanatçı için en kestirme yol eserlerini kendi toprağının özsuyuyla beslemektir. Bu cümlede altı çizili sözle anlatılmak istenen aşağıdakilerden hangisidir?
- A) Eski eserleri yeni bir bakış açısıyla ele almak
B) Eserlerinde evrensel değerleri işlemek
C) Tüm insanlarda ortak olan değerleri ele almak
D) Eserlerini ulusal değerlerle yoğurup zenginleştirmek
E) Kişisel değer yargılarını ve beğenilerini öne çıkarmak
2. Senin bu yaptığın karanlığa kurşun sıkmak olur; çünkü bu konuda ne bilgin var, ne de yeteneğin. Altı çizili sözün bu cümleye kattığı anlam aşağıdakilerin hangisinde vardır?
- A) Yıllardır boş yere çabaladın, sonuç hiç değişmedi.
B) Elindeki parayı bu kadar kısa sürede tüketmesine şaşırıdık.
C) Sabahtan akşama kadar boş boş oturdu.
D) O gün sizin evi ararken bir ara ona rastladım.
E) Sen hâlâ bir konu üzerinde düşünmeyi öğrenemedin.
3. I. Paylaşmayı öğrenememiş insanların yaşama biçimlerinde bölünme kaçınılmazdır.
II. Paylaşma eyleminde “benim”, “bana ait” sözlerine yer yoktur.
III. “Bu benimdir, şu da senin” demek bölüşme demektir.
IV. Birlikte yaşayabilmek için paylaşmayı bilmek gerekir.
Yukarıda numaralanmış cümlelerin hangileri anlamca birbirine en yakındır?
- A) I-II B) I-III C) I-IV
D) II-IV E) III-IV
4. (I)Yazar – kitap – okuyucu dengesi yayıncılığın belkemiğidir. (II)Yayınlar, bu üçlü arasındaki ilişkiyi düzenleyen sihirli bir değnekti, sihri bozuldu. (III)Yazarlar artık memnun değil, telif ücretlerini alamıyor. (IV)Kitap memnun değil, okurunu kaybetti. (V)Okuyucu memnun değil, kitaba ayıracak parası yok.
Bu parçada numaralanmış cümlelerin hangilerinde yargı gerekçesiyle verilmemiştir?
- A) I-II B) I-III C) I-IV

D) II-IVE) IV-V

5. Aşağıdakilerin hangisinde ikinci cümle birincinin açıklaması değildir?
- A) Bütün gece gözümü kırpmadım. Ondan telefon bekledim.
B) Evi kiraya vermediler. Satmayı düşünüyorlarmış.
C) Çocuk hüngür hüngür ağlıyor. Oyunağı kırılmış.
D) Dün işyerine telefon ettim. İşe gelmediğini söylediler.
E) Bu tabloyu mutlaka alacağım. Antikalara meraklıyım.
6. (I)Yeryüzünde milyonlarca insan kitap okuyor, müzik dinliyor, sinemaya ya da tiyatroya gidiyor. (II)Sadece birey olmakla yetinmiyor, çağının bireyi olmak istiyor. (III)Kişiliğinin rasgele sınırları, yaşayışın kapanıklığı içinde kendini tüketmek zorunluluğuna başkal-dırıyor. (V)Böylece yaşamını daha güzel ve anlamlı kılıyor.
Bu parçada numaralanmış cümlelerin hangisinde “bireyin kendini geliştirme çabası”nın nedeni verilme-miştir?
- A) I B) II C) III D) IV E) V
7. (I)Şiire genellikle gergin başlarım. (II)Bu gerginlik şiir yazma süreci uzadıkça artar. (III)Bu süreçte şiirin o gün bitip bitmeyeceğini anlarım. (IV)Sanırım şiir beynimin bir yerinde kendi kendine hazırlanıp olgunlaşıyor. (V)Bu nedenle bazen birkaç dakika içinde beş on dize birden dökülüyor.
Bu parçada numaralanmış cümlelerden hangisinden sonra “çünkü şiir bana hiç sürpriz yapmaz.” cümlesinin getirilmesi uygundur?
- A) I B) II C) III D) IV E) V
8. Aşağıdaki cümlelerin hangisi noktalama bakımından doğrudur?
- A) Bu babamın, yaşadığı topraklardan sürgün edilen bir insanın, öyküsüdür.
B) Bu, babamın yaşadığı topraklardan sürgün edilen bir insanın öyküsüdür.
C) Bu, babamın, yaşadığı topraklardan sürgün edilen, bir insanın öyküsüdür.
D) Bu babamın, yaşadığı topraklardan, sürgün edilen bir insanın. öyküsüdür.
E) Bu, babamın, yaşadığı topraklardan sürgün edilen bir insanın, öyküsüdür.

9. Aşağıdaki cümlelerin hangisinde yazım yanlışı yoktur ?

- A) Bir takım sanatçılar eleştirilmekten hoşlanmıyor.
B) Bu konuda bir çok araştırma yapılmış.
C) Ondan hiç bir gün kötü söz duymadım.
D) Art arda gelen sorunlar beni bunaltdı.
E) Bana yalan söylediğini farkettilim.

10. Aristo'ya sorarlar ()

-Korkudan kurtulmak için ne yapmalıyız ()

Aristo, şöyle yanıt verir ()

-Düşüncenizi düzeltin ()

Bu parçada boş parantezle belir-tilen yerlere sırasıyla aşağıdaki-lerden hangisi getirilmelidir?

- A) (:), (?), (.), (.)
B) (.), (.), (.), (.)
C) (.), (.), (.), (.)
D) (.), (.), (.), (.)
E) (:), (?), (:), (.)

11. (I)İzmir'den karayoluyla Manisa'ya giderken Çiçekli Köyü'nün yanından geçersiniz (II)Köy, bu yola aşağı yukarı tam bir kilometre uzaklıkta. (III)Köy bir botanik bahçesini andıracağına göre, adını buradan almış olmalı. (IV)Yazın bu köy adeta bir turist akınına uğruyor. (V)Köylü çocuklar da bu turistlere deve bindirerek üç - beş kuruş kazanıyor.

Bu parçada numaralanmış cümle-lerin hangilerinde bir anlatım bozukluğu vardır?

- A) I-II B) I-III C) I-V
D) II-IV E) II-V

12. (I)Bu gölün balıkları son derece lezzetli oluyor. (II)Gölde, daha çok, sazan balığı tutuyorlar. (III)Ara sıra da tatlı su kefalı görülüyor. (IV)Kefal pek yağlı olmadığı için ızgarası önerilmiyor. (V)Zeytinyağını kefalde kızartınca daha lezzetli oluyor.

Bu parçada numaralanmış cümle-lerin hangilerinde bir anlatım bozukluğu vardır?

- A) I-II B) I-III C) II-III
D) II-IV E) II-V

13. Aşağıdaki cümlelerin hangisindeki altı çizili sözcük ya da söz çıkarıldığında cümlelerin anlamında bir daralma olmaz?

- A) Bu arabayı dört yıl önce üç milyara satın almıştım.

- B) Bunları biri bana söylese alınmazdım.
C) Bahçedeki güllerin aşağı yukarı hepsi açmış.
D) İzmir - Ankara uçağı havada arızalanmış.
E) Yeşil biber turşusu çok lezzetli oluyor.

14. Artık bahar gelmişti. Okulun paydos zili çalır çalmaz oltalarımızı kaptığımız gibi Adakule'nin altındaki kayalıklara koşuyorduk. Her gün yiyebileceğimiz kadar balık tutabiliyorduk. Kimi zaman kendimizi öyle kaptırıyorduk ki bu işe vakit geceyarılarını buluyordu.

Bu parçanın anlatım biçimi aşağıdakilerden hangisidir?

- A) Betimleme B) Öyküleme
C) Açıklama D) Tanımlama
E) Tartışma

15. Aşk bencildir, paylaşmaz; sevgi paylaşmadır, bencil değildir. Aşk insanı bazen tanrı yapar bazen de gereksiz bir böcek; ama sevgi insanı insan yapar.

Parçanın anlatımında ağır basan aşağıdakilerin hangisidir?

- A) Tanımlama B) Açıklama
C) Tanık gösterme D) Benzetme
E) Karşılaştırma

16. İnsan niçin yazar? Bence bilgi aktarmak, insanlara yararlı olmak, yarına kalmak gibi amaçların ötesinde insanın kendisini açıklamak istemesi yatar bu eylemin altında. Kendini açıklamak var olmakla eş anlamlıdır. Yazı, var oluşu yansıtan bir ayna olarak insanın vazgeçilmez aracıdır.

Bu parçanın ana düşüncesi aşağıdakilerin hangisidir?

- A) Kendini anlatmanın en etkili yollarından biri de yazmaktır.
B) Yazmak, insanın kendini açıklamak, var oluşunu kanıtlamak gereksiniminin ürünüdür.
C) Yarınlar kalmanın yolu yazmaktan geçer.
D) Geçmişten geleceğe kültür aktarımı yazmayla gerçekleşir.
E) Yazı, yazarın yaşantısını birebir yansıtan bir aynadır.

17. Küçük dalgalarda fındık kabuğu gibi sallanan bir tekne ile, hedefine doğru yol alan bir gemi elbette bir değildir. Hayat denizindeki insanlar bu ikisinden birine benzer. Kimileri hayatın dalgaları arasında kaybolup gider. Kimileriye

gaye ve ideal uğruna yol alır. Başarıyı yakalayanlar işte bu özellikte olanlardır. Bu parçanın ana düşüncesi aşağıdakilerden hangisidir?

- A) Yaşamla mücadele etmek, dalgalı denizde kulaç atmaktan farklı değildir.
- B) Hedef bir ufuktur, ya varılır, ya varılmaz.
- C) Başarılı olmak kadar başarısız olmak da doğaldır.
- D) Başarılı olmak için kişinin kendisine bir rota belirlemesi gerekir.
- E) İnsanla dalgalı bir denizdeki tekne arasında benzerlikler vardır.

18. Teknoloji kıskacında ruhu daralan, makineleşen ve bu nedenle de yüce ereklerden uzaklaşan günümüz insanı, öyle görülüyor ki başarı yolunda çok ciddi engellerle karşı karşıyadır. Bu engellere takılan yetenek tohumları çiçeklenemediği için başarının zirvelerine kanat açamaz. Bu parçada aşağıdakilerden hangisi üzerinde durulmaktadır?

- A) Karşılaşılan engellerle mücadele edebilmenin yolları
- B) Teknolojik gelişmenin hızlanmasını engellemek için alınması gereken önlemler
- C) Teknolojik gelişmeye günümüz insanının yaptığı katkılar
- D) Teknolojik gelişmenin yeteneklerin önünü tıkaması
- E) Başarı zirvesine giden yoldaki engeller

19. Şüphesiz bir gönüle girmek o gönlü fethetmek olta ile balık avlamaktan çok daha zordur. Dolayısıyla siz muhatabınızın özelliklerini, karakterini, zevklerini bilerek hareket edin. Unutmayın ki... düşüncenin akışına göre, parçanın sonuna aşağıdakilerden hangisinin getirilmesi uygundur?

- A) Her gün bir balık vermek yerine balık tutmayı öğretmek gerekir.
- B) Oltaya, uygun yem takamayanlar balık yakalayamaz.
- C) Balık tutmak da kolay bir iş değildir.
- D) Rasgele demeden balık oltaya gelmez.
- E) Şansınız yoksa bir balık bile tutamazsınız.

20. Nabî'nin şiirine duygu ve hayal unsurlarından çok düşünce unsuru egemendir. Şiirlerini okuyanlara, bir şeyler öğretmek amacındadır. Aynı zamanda kendini, yaşadığı topluma karşı

sorumlu hisseder. Devrinin aksayan yönlerini ironik bir dille ele almıştır. Kendine özgü bir üslubunun olması onu diğer şairlerden ayırır. Bu parçada tanıtılan şairle ilgili aşağıdakilerden hangisine değnil-memiştir?

- A) Şiirlerinin didaktik özellikler gösterdiğine
- B) Dizelerinde yer yer alaysamalı bir söyleyiş görüldüğüne
- C) Toplumsal çelişkilere değindiğine
- D) Diğer şairlerden farklı bir söyleyişinin olması
- E) İmgeye hiç yer vermemesi

21. (I)Halk hikayelerinin de özel anlatıcıları vardır. (II)Nasıl, masalın anlatıcıları genellikle kadınlar ise halk hikayelerinin de anlatıcıları da erkeklerdir. (III)Halk hikayeleri masallardan sonra ortaya çıkmıştır. (IV)Ama bu demek değildir ki halk hikayelerini yalnız erkekler anlatır. (V)Kadınlar da hikaye anlatabilir; ama onlara bir masal havası vererek yapabilir bu işi. Bu parçada numaralanmış cümlelerin hangisi düşüncenin akışını bozmaktadır?

- A) I B) II C) III D) IV E) V

22. Salah Birsel'in "Kurutulmuş Felsefe Bahçesi"ni her okuyuşumda keyifle-nirim; yeni bir şeyler anlatmak, yazmak gelir içimden. Yazarım, konuşurum. Günler sonra tekrar okuduğumda bambaşka bir evrende bulurum kendimi bu kez. Yeniden kalemi elime alır ve kendimi yepyeni bir evrende bulurum. Bu evren, yazdıkça genişler. Bu parçadan aşağıdaki sonuçların hangisine ulaşılabilir?

- A) İyi bir yapıt başka sanatçılar tarafından bile beğenilir.
- B) İyi bir yapıtın değeri hemen değil zamanla sezilir.
- C) Nitelikli bir yapıt başka sanatçılara esin kaynağı olur.
- D) Yazma yeteneği sürekli okumak ve yazmakla gelişir.
- E) Nitelikli yapıtlar değişik zaman dilimlerinde de sıkılmadan okunabilir.

23. Tiyatroda son derece düzeyli oyunlar sergilenebilirken televizyon için durum niye aynı olmuyor? Olmaz, çünkü tiyatronun "tiyatroya gitmeye ihtiyaç duyan" ve düzeyli bir oyun seyretmek için üşenmeden tiyatroya giden, tiyatronun işlevini ve önemini kavramış seyircisi var. Oysa...

Düşüncenin akışına göre, bu parçanın sonuna aşağıdakilerin hangisi getirilemez?

- A) Televizyon izleyicileri bu bilinçten yoksundur.
- B) Televizyon izleyicilerini gelişigüzel bir kitle oluşturmaktadır.
- C) Televizyon izleyicisinin sanat zevki çok gelişmiştir.
- D) Televizyon izleyicileri seçici değildir.
- E) Televizyonun belli ölçüler çerçevesinde birleşmiş bir izleyicisi yoktur.

24. Otomobilin, telefonun ve televizyonun insan ve toplum yaşamına getirdiği aşamalardan sonra şimdi bir "İnternetin devrimiyle karşı karşıyayız. Kuşkusuz ki İnternetin kişilere tanıdığı özgür iletişim, kendini özgürce ifade edebilme serbestliği insanların önüne yeni ve büyük bir ufuk açmış olmaktadır? Bu parçada aşağıdakilerin hangisine değinilmemiştir?

- A) Televizyonun, toplumsal yaşamda bir aşama sayılabileceğine
- B) İnternetin önemli bir yenilik olarak değerlendirilebileceğine
- C) İnternet yoluyla kişilerin özgürce iletişim kurabildiğine
- D) İnternet sayesinde insan ufkunun sınırlarının genişlediğine
- E) Çağdaşlaşabilmek için İnternet kullanımının zorunlu olduğuna

25. (I)İnsanı diğer canlılardan ayıran en önemli özellik, aklını kullanabilme becerisidir. (II)Aklını kullanabilen insan binlerce yıldır şu soruların peşinde koşuyor. (III)Binlerce yıldır bu sorulara değişik cevaplar veriliyor, ama sorular değişmiyor. (V)Demek ki sürekli sorgulama insanın doğasında var. (V)İşte bu özellikler onu diğer canlılardan üstün kılıyor.

Bu parçada numaralanmış cümlelerin hangisinde önce "Ben kimim, nereye gidiyorum, yaşamamın amacı ne?"cümlesinin getirilmesi en uygundur?

- A) I B) II C) III D) IV E) V

26. (I)Güldürünün kaynağı insandır, insan ilişkileri ve çelişkileridir. (II)Doğada komik yoktur, güzel ve çirkin vardır. (III)"Ne güzel bir deniz manzarası!" ya da "Ne çirkin bir dağ!" diyebiliriz, ama "Ne komik bir yer!" diyemeyiz. (IV)Kimi hayvanlar az da olsa gülümsetebilir bizi. (V)Ne

var ki uzmanlar bu gülüşün hayvanlardaki insan çağrışımından kaynaklandığı belirtiyorlar. Bu parçada numaralanmış cümlelerin hangisi bu parçanın ana düşüncesidir?

- A) I B) II C) III D) IV E) V

27. Yazar birden giriyor konuya. Hiç güçlük çekmiyor hikaye sürüp giderken. Kahramanları bizden. Bizim gibi konuşuyorlar. Gereksiz tek sözcük kullanılmamış. Sıkıyor okuruz bir sürü benzetmeler ve sözcük oyunları. Neyi anlatmak istiyorsa düpedüz varıyor üstüne. Parçada anlatılan yazar ve yapıtıyla ilgili olarak aşağıda-kilerin hangisine değinilmemiştir?

- A) Kahramanlarını halkın içinden seçtiğine
- B) Dolaylı bir anlatımı yeğlemediğine
- C) Duru bir üslubunun olduğuna
- D) Kolay okunabilir bir niteliğinin olduğuna
- E) Eskimemiş, ilginç konular işlediğine

28. (I)Bir eleştirmenimizin kesin bir hükümle Türk basınında gerçek anlamda dört yazar olduğunu söylemesini yadırgadım.(II)Günümüzde yazı yazan çok; ama gerçek yazar nerede? (III)Açıkçası hayal kırıklığına uğradım. (IV)Yıllardır bu alanda kalem oynatan ustaları bir kalemde silişini yadırgadım. (V)Onun tek seçici havası içinde bu değerlendirmeyi hangi ölçüt-lere göre yaptığını pek anlayamadım. Parçada numaralanmış cümleler-den hangisi düşüncenin akışını bozmaktadır?

- A) I B) II C) III D) IV E) V

29. Yahya Kemal, kendisine az şiiri olduğu söylendiğinde şu cevabı vermiş: "Az şiirim varsa bunu bir mutluluk sayarım. Az şiir söylemiş olmak, az şey değildir. Birçok şiir kitabı olan nice şair bilirim ki ömürlerinde henüz bir şiir bile yazmamışlar."

Bu parçada vurgulanmak istenen düşünce aşağıdakilerden hangisi-sidir?

- A) Az şiir yazmak iyi şair olmanın gereklerindedir.
- B) Nadiren şiir yazan şairler daha değerli sayılır.
- C) Önemli olan çok yazmak değil iyi şiir yazmaktır.
- D) Çok yazan şairlerin şiirleri nitelikli olamaz.
- E) Kalıcı şiirler üretmek deneyimli sanatçılara özgüdür.

30. (I)Kimi zaman, kalemi elinize alınca sınırsız bir güç bulursunuz kendinizde. (II)Dizginlenemez, önü alınmaz bir coşkidur bu. (III)İnsan coşkularını sınırlayıp denetleyebilmelidir. (IV)Bu coşkunun gücüyle her şeyi yazabilecek kudretle hissedebilirsiniz kendinizi. (V)Yazmak dışındaki tüm eylemler anlamını yitirir o an, yerini yazma coşkusuna bırakır.
Bu parçada numaralanmış cümle-lerin hangisi düşüncenin akışını bozmaktadır?

A) I B) II C) III D) IV E) V

31. a ve b pozitif tamsayılar ve $\frac{5}{a} = \frac{b}{2} = c$ olduğuna göre c'nin en büyük değeri için a+b+c kaçtır?

A) 7 B) 8 C) 15 D) 16 E) 20

32. Birbirinden farklı iki basamaklı pozitif dört tamsayının toplamı 325'tir. Bu sayılardan en büyüğü 97 olduğuna göre en küçüğü en az kaçtır?

A) 33 B) 34 C) 35 D) 36 E) 37

33. m ve n birer gerçel sayı olmak üzere m'nin en az 6 katı n'nin en az 8 katı birer tamsayıdır. Buna göre $3m+2n$ 'nin en az kaç katı bir tamsayıdır?

A) 4 B) 6 C) 8 D) 24 E) 48

34.

+	x	y	z
x		20	19
y			17

Yukarıdaki tablo toplama işlemine göre düzenlenmiştir. Bu tabloya göre x kaçtır?

A) 10 B) 11 C) 12 D) 17 E) 22

35. $0 \leq a \leq 2$, $-2 \leq b \leq 3$ ve a,b birer reel sayı olsun. $4a-2b$ 'nin en büyük değeri kaçtır?

A) 5 B) 8 C) 10 D) 12 E) 15

36. x^2-x y
x

1

yukarıdaki bölme işlemine göre $y+1$ 'in x türünden ifadesi nedir?

A) x^2+x B) $\frac{x+1}{x}$ C) $\frac{x-1}{x}$

D) $\frac{x^2+1}{x}$ E) $\frac{x^2-1}{x}$

37. İki basamaklı PR sayısı rakamları toplamının m katı, iki basamaklı RP sayısı rakamları toplamının n katı olduğuna göre m+n kaçtır?

A) 15 B) 11 C) 9 D) 5 E) 3

38. Belma'nın yaşı iki basamaklı bir KL sayısıdır. Belma'nın 18 yıl sonraki yaşı, 5'in katı olan iki basamaklı LK sayısı olacağına göre LK sayısı aşağıdakilerden hangisidir?

A) 35 B) 45 C) 57 D) 75 E) 77

39. Bir resim öğretmeni resim dersinde öğrencilerinin K (Kırmızı), B(Beyaz), ve S(Sarı) renkteki boya $\frac{K}{B} = \frac{1}{3}$, $\frac{B}{S} = \frac{1}{2}$ oranında karıştırarak 500 grlık bir karışım elde etmelerini istiyor. Öğrenciler sarı renkteki boyadan kaç gram almalıdır?

A) 90 B) 120 C) 150
D) 250 E) 300

40. Bir gruptaki basketbol ve voleybol oyuncularının sayıları 2,4 ve 2,8 sayıları ile orantılıdır. Bu grupta en az kaç tane voleybol oyuncusu vardır?

A) 3 B) 4 C) 7 D) 12 E) 14

41. $\frac{3^{n+1} + 3^n}{18 \cdot 3^{n-2}}$ işleminin sonucu kaçtır?

A) $\frac{1}{9}$ B) $\frac{1}{3}$ C) 2 D) 3 E) 9

42.
$$\frac{1}{\frac{0,1}{0,11} + \frac{0,2}{0,22} - \frac{0,3}{0,33}}$$
 işleminin sonucu kaçtır?
A) 1,1 B) 11 C) 22 D) 33 E) 110
43. x ve y pozitif tamsayılar ve $\frac{x}{2} = \frac{y}{5} = k$ olduğuna göre $\sqrt{2x} + \sqrt{5y}$ ifadesi aşağıdakilerden hangisine eşittir?
A) $29\sqrt{k}$ B) $9\sqrt{k}$ C) $7\sqrt{k}$
D) $7k$ E) $29k$
44. K sayısı; L'nin %30'u, L sayısı da M'nin % 20 si dir. Bu üç sayının toplamı M sayısının % kaçdır?
A) 27 B) 31 C) 106 D) 126 E) 131
45. Bir bidonun $\frac{2}{3}$ ü su ile doludur. Bidona 40 lt su eklendiğinde bidondan 15 lt su taşıdığına göre bidon kaç lt su alır?
A) 25 B) 50 C) 60 D) 75 E) 80
46. $a+b=2, \frac{1}{a} + \frac{1}{b} = -6$ olduğuna göre a.b kaçtır?
A) $-\frac{1}{3}$ B) $-\frac{1}{2}$ C) 1 D) -2 E) -3
47. Bir fabrika ürettiği mallardan birincisini 6m - 2.000.000 TL ye ikincisini ise 10m - 30.000.000 TL ye satıyor. Fabrika bu malları aynı maliyetle üretip belli bir kar oranı ile sattığına ve birinci maldan elde ettiği kar ikinci maldan elde ettiği kardan fazla olduğuna göre m aşağıdakilerden hangisi olabilir?
A) 250.000 B) 4.325.000
C) 7.200.000 D) 12.000.000
E) 15.000.000
48. Bir gruptaki erkeklerin sayısının $\frac{3}{5}$ i kızların sayısının % 32 sine eşittir?

Bu grupta en az kaç kişi vardır?

- A) 15 B) 18 C) 23 D) 32 E) 35

49. Alanı 65km² olan dikdörtgen şeklindeki bir tarlanın boyu, eninin 3 katından 2 km kısadır. Bu tarlanın etrafını dolaşmak isteyen iki bisikletliden birinin hızı diğerinin hızından 1 km/sa fazladır. Bisikletliler aynı anda aynı noktadan zıt yönlerde doğru hareket ettikten 12 sa sonra karşılaştıklarına göre yavaş olan bisikletlinin hızı nedir?
A) 1 B) 2 C) 3 D) 4 E) 5
50. Selver ile Murat bir işi birlikte 15 günde yapabiliyorlar. İşin yarısını birlikte bitirdikten sonra Selver işi bırakıyor ve kalan işi Murat tek başına 30 günde bitirebiliyor. Buna göre işin tamamını Selver tek başına kaç günde bitirir?
A) 40 B) 35 C) 20 D) 15 E) 12
51. $\frac{x-1}{x+1} - \left(1 + \frac{1}{x}\right)^{-1}$ ifadesinin sadeleştirilmiş hali aşağıdakilerden hangisidir?
A) $\frac{-1}{x-1}$ B) $-\frac{1}{x+1}$ C) $\frac{x-1}{x+1}$
D) $\frac{2x-1}{x+1}$ E) $\frac{1}{2x+1}$
52. Eş kapasiteli 4 musluk bir havuzu 20 saatte dolduruyor. Bu musluklar açıldıktan 8 saat sonra musluklardan biri kapatılıyor. Kalan kısmı üç musluk kaç saatte doldurur?
A) 10 B) 12 C) 15 D) 16 E) 18
53. Şeker oranı % 20 olan 300 gr lık şekerli suyun yarısı şeker oranı % 20 olan 450 gr lık şekerli su ile karıştırılıyor. Elde edilen karışımın şeker oranını % 40 a çıkarmak için karışıma kaç gr şeker ilave edilmelidir?
A) 60 B) 120 C) 140
D) 200 E) 250
54. Üç trenden birincisi 20 günde bir, ikincisi 32 günde bir, üçüncüsü ise 36 günde bir gara geliyor. Trenlerin üçü birden Salı günü gardan ayrıldığına göre üçü birlikte tekrar hangi gün gara geri döner?

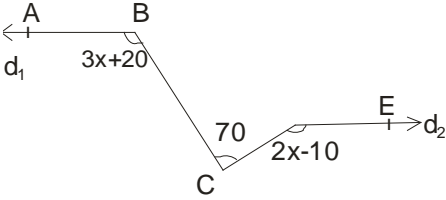
- A) Pazar
C) Çarşamba
E) Pazartesi
- B) Cumartesi
D) Salı

55. a,b,c negatif tamsayılar olsun.

$\left. \begin{array}{l} a = 3b \\ 4c = 5b \end{array} \right\}$ ise aşağıdaki sıralama-lardan hangisi doğrudur?

- A) $a < b < c$
C) $c < b < a$
E) $b < c < a$
- B) $a < c < b$
D) $c < a < b$

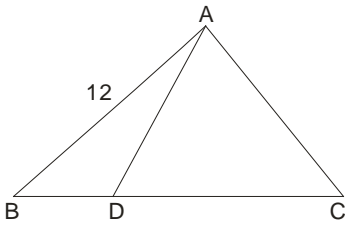
56.



$d_1 // d_2$, $m(\hat{A}BC) = 3x + 20$, $m(\hat{C}DE) = 2x - 10$,
 $m(\hat{B}CD) = 70$
olduğuna göre $m(\hat{C}DE)$ nedir?

- A) 12 B) 24 C) 32 D) 48 E) 86

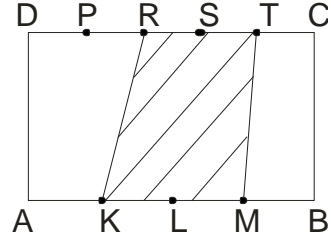
57.



ΔADC eşkenar üçgen, $|BD| = |AC|$, $|AB| = 12$
olduğuna göre $A(ABC)$ nedir?

- A) $8\sqrt{3}$ B) $12\sqrt{3}$ C) $15\sqrt{3}$
D) $18\sqrt{3}$ E) $24\sqrt{3}$

58.



ABCD bir dikdörtgen olsun. $[AB]$ kenarı dört eşit parçaya, $[CD]$ kenarı 5 eşit parçaya bölünüyor. $A(ABCD) = 60 br^2$
Olduğuna göre taralı alan kaç br^2 'dir.

- A) 27 B) 48 C) 50 D) 54 E) 56

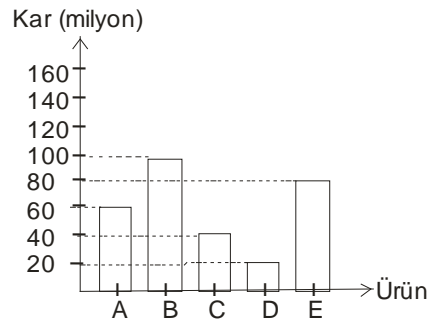
59. Bir memurun maaşı ile yapmış olduğu harcamalar aşağıdaki tabloda verilmiştir.

HARCAMA	TUTAR (MİLYON TL)
Taksit	120
Fatura	80
Ev Kirası	150
Mutfak	120
Diğer	130

Buna göre bu dağılım bir daire grafiği ile gösterilmiş olsaydı ev kirasına ait daire diliminin merkez açısı kaç derece olacaktı?

- A) 40 B) 60 C) 80 D) 85 E) 90

60.



Yukarıdaki grafik beş farklı üründen bir yılda elde edilen kar miktarlarını göstermektedir. Buna göre yıllık karı en yüksek olan üründen elde edilen kar miktarı toplam karın yüzde kaçtır?

- A) 33 B) $\frac{50}{3}$ C) 80
D) $\frac{100}{3}$ E) $\frac{110}{3}$

GENEL KÜLTÜR

61. İslam Öncesi Türk devletlerinde boy beylerinden oluşan Kurultay, hakanın seçiminde etkili rol oynardı. Kurultay başarılı olamayan halkına refah sağlayamayan töreye aykırı hareket eden hakanı görevden alabilirdi. Bu bilgilere göre aşağıdaki yargılardan hangisine ulaşamaz?

- A) Hükümdarlık babadan oğla geçmektedir.
B) Hükümdarlar yasalara uymak zorundadır.
C) Hakanların halka karşı sorumlulukları vardır.
D) Hükümdarların yetkileri sınırlıdır.
E) Kurultay devlet yönetiminde etkilidir.

62. Uygurlarda;

- I. Ticaret ve tarımın gelişmesi
II. Şehir kültürünün yaygınlık kazanması

III. Kütüphanelerin açılması

Gelişmelerden hangisi veya hangileri Uygurların yerleşik yaşama geçtiklerinin kanıtlarıdır?

- A) Yalnız I B) Yalnız II C) I-II
D) II-III E) I-II-III

63. İslam Öncesi Türk Devletlerinden,

- Büyük Hun İmparatorluğu döneminden kalan kurganlarda bulunan taşınabilir malzemeden yapılmış silahlar, eyerler ve elbiselerin hayvan resimleriyle süslendiği görülmüştür.
- Göktürkler döneminden kalan kurganlarda ise, altın ve gümüşten yapılmış süs eşyaları, demirden yapılmış kılıç ve mızrak gibi silahlara rastlanmıştır.

Bu bilgiler Türklerle ilgili aşağıdakilerden hangisinin bir göstergesi olarak değerlendirilemez?

- A) Savaşçı özellik taşıdıklarının
B) Madenlerden yararlandıklarının
C) Ölümden sonraki yaşama inandıklarının
D) Ulusçu devlet anlayışını benimsediklerinin
E) Sanatı yaşam biçimine göre geliştirdiklerinin

64. - Şehzadeleri eğitmekle görevlidir.
- Bağımsızlıklarını ilan etmeleriyle Selçuklu Devletinin yıkılışını hızlandırmışlardır.
Bu özellikler aşağıdakilerden hangisine aittir?

- A) Lala B) Lonca C) Atabey
D) Ahi E) Sipahi

65. Osmanlı Devletinde;

17 yy. başlarında savaşların uzun sürmesi ve tımar sisteminin bozulması üzerine Anadolu da aşağıdaki ayaklanmalardan hangisi çıkmıştır?

- A) İstanbul B) Celali
D) Yeniçeri D) Babai
E) Baba İshak

66. I. Yaya

- II. Musellem
III. Nizam-ı Cedit

IV. Yeniçeri

Hangisi veya hangileri Orhan Bey döneminde kurulan ilk devamlı ordulardır?

- A) I-IV B) Yalnız III C) I-II
D) I-III E) Yalnız IV

67. I. Lala

II. Atabey

III. Subaşı

IV. Müdderis

V. Muhtesib

Yukarıdakilerden hangileri İslam - Türk devletlerinde eğitim ile ilgili kavramlar değildir?

- A) I-II-IV B) III-V C) Yalnız IV
D) II-III-V
E) I-IV

68. Osmanlı Devletinde hukukun üstünlüğü ilkesi ilk defa aşağıdakilerden hangisiyle kabul edilmiştir?

- A) Islahat Fermanı
B) Kanun-i Esasi
C) Sened-i İttifak
D) Tanzimat Fermanı
E) I. Meşrutiyet

69. 19.yy da imzalanan antlaşmalar-dan hangisi Osmanlı Devletinin topraklarını koruyamayacak durumda olduğunun göstergesidir?

- A) K. Kaynarca B) Balta Limanı
C) Paris D) Berlin
E) Sevr

70. Osmanlı Devletinin Balkan Savaşlarında ağır bir yenilgi alması düşünce alanında da köklü değişimlere neden olmuştur.

Aşağıdaki düşüncelerden hangisi bu yenilgi sonunda güçlenerek yaygınlık kazanmıştır?

- A) Türkçülük

- B) Ümmetçilik
C) Batıcılık
D) Turanizm
E) Osmanlıcılık
71. Amasya Genelgesinin yayınlanma-sından sonra İstanbul Hükümetinin, Mustafa Kemal'e karşı gösterdiği tepki aşağıdakilerden hangisinde belirtilmiştir?
- A) Mustafa Kemal'i desteklemek
B) Müdafaa-i Hukuk cemiyetlerinin faaliyetlerini yasaklamak
C) Mustafa Kemal'i görevinden almak
D) Kuva-ı İnzibatiye'yi kurdurmak
E) Meclis'i Mebusan'ı toplamak
72. I. Amasya Genelgesi
II. Erzurum Kongresi
III. Amasya Görüşmeleri
IV. Sivas Kongresi
V. Misak-ı Milli
Yukarıdakilerden hangisinin içeriğinde ulusal egemenliği gerçekleştirme fikri yoktur?
- A) I-II B) II-V C) III-IV
D) III-VE) I-III
73. TBMM'nin kurulmasıyla görevi sona eren kuruluş aşağıdakilerden hangisidir?
- A) Meclis-i Mebusan
B) Heyeti Temsiliye
C) Kuva-i Milliye
D) Tekalif-i Milliye
E) Teşkilat-ı Esasiye
74. TBMM'nin Kurtuluş Savaşı yıllarında yaptığı çalışmalarından
I. Moskova'da elçilik açılması
II. Tekalifi Milliye emirlerinin yayınlanması
III. İstiklal mahkemelerinin kurulması
IV. Fransa ile Ankara antlaşmasının yapılması
Hangisi veya hangileri uluslararası ilişkilerde etkinlik kurmaya yönelik değildir?
- A) I-II B) II-III C) II-IV
D) III-IV E) Yalnız III
75. I. İnönü Savaşının kazanılma-sından sonra İtilaf devletlerinin TBMM nin Londra Konferansına davet etmeleri ile aşağıdakilerden hangisini amaçlamışlardır?
- A) TBMM'yi resmen tanımak
B) İstanbul hükümetini korumak
C) Yunanlıları durdurmak
D) Saltanata son vermek
E) Sevr antlaşmasını kabul ettirmek
76. I. ve II. İnönü Savaşlarının ortak yanı aşağıdakilerden hangisidir?
- A) Yunan kuvvetlerinin ilerleyişinin durdurulması ve zaman kazanılması
B) Kütahya ve Eskişehir'in kaybedilmesi
C) Doğu Trakya'nın Yunanlıların elinden alınması
D) Fransa'nın Anadolu'dan çekilmesi
E) İngiltere'nin barış önerilerinde bulunması
77. I. İnönü zaferinden sonra toplanan Londra Konferansının başarısızlıkla sonuçlanmasında TBMM temsilci-lerinin aşağıdaki tutumlarından hangisi daha çok etken olmuştur?
- A) Boğazların Türklere ait olduğunda direnmeleri
B) Ermeni Devletinin kurulmasına karşı çıkmaları
C) Kapitülasyonlar konusunda karşı çıkmaları
D) Misak-ı Milli'den taviz vermemeleri
E) İstanbul hükümetini Türk milletinin temsilcisi olarak tanımamaları
78. Büyük Taarruz için gerekli olan insan gücü, silah ve malzemelerin sağlandığı kaynaklar arasında, aşağıdakilerden hangisi yer almaz?
- A) Sovyet Rusya'dan silah ve malzeme satın alınması
B) Almanya'nın maddi desteğinden yararlanılması
C) İstanbul'daki depolardan Anadolu'ya silah kaçırılması
D) Anadolu halkının elindeki malzemelerin değerlendirilmesi
E) Doğu cephesindeki ordu birliklerinin batıya aktarılması
79. Fransız Hükümetinin TBMM ile 20 Ekim 1921 Antlaşmasını imzala-ması, aşağıdaki gelişmelerden hangisiyle ilgilidir?
- A) Düzenli ordunun kurulması
B) Ermenilerin, Türklere karşı haksız davranması
C) İtalya'nın Anadolu'dan çekilme kararı alması
D) Fransızların Güney Cephesinde başarısızlığa uğraması
E) Sovyetlerin TBMM'yi tanınması

80. İtilaf Devletlerinin TBMM'yi resmen tanınması ilk defa aşağıdakilerden hangisiyle gerçekleşmiştir?

- A) Lozan Antlaşması
- B) Gümrü Antlaşması
- C) Ankara Antlaşması
- D) Moskova Antlaşması
- E) Londra Konferansı

81. Misak-ı Millide

- I. Sınırlar
 - II. Boğazlar
 - III. Kapitülasyonlar
- Kavramlarından hangileri yer almıştır?

- A) Yalnız I B) I-II C) I-III
- D) Yalnız III E) I-II-III

82. I. Şeyh Sait İsyanı

- II. Bursa Olayı
 - III. Menemen olayı
- Yukarıdakilerden hangileri Cumhuriyet politikalarına tepki niteliğindedir?

- A) Yalnız I B) Yalnız II C) I-II
- D) I-III E) I-II-III

83. I. Medreselerin kapatılması

- II. Tekke ve zaviyelerin kapatılması
 - III. Kılık - kıyafet kanununun çıkarılması
 - IV. Soyadı kanununun kabul edilmesi
- Yukarıdakilerden hangilerinin amacı çağdaş düşünceli bireyler yetiştirmektir?

- A) Yalnız I B) I-III C) II-IV
- D) I-II E) Yalnız III

84. I. Hükümet bunalımının çıkması

- II. Seçim sisteminin yetersiz olması
- III. Devletin yönetim şeklinin belirsiz olması
- IV. Saltanatın devam etmesi

Yukarıdakilerden hangileri Cumhuriyetin ilanı ile ortadan kalkmamıştır?

- A) I-III B) II-IV C) I-II
- D) Yalnız IV E) III-IV

85. I. İşgalci güçlere karşı direnişi örgütleme

- II. Kuva-i Milliye'yi destekleme
- III. Bölgelerini savunma
- IV. Saltanata ve halifeye açık muhalefet etme

Yukarıdakilerden hangisi veya hangileri milli mücadele sırasında toplanan kongrelerin bir özelliği değildir?

- A) Yalnız I B) Yalnız II C) I-IV
- D) Yalnız IV E) III-IV

86. Atatürk aşağıdaki ilkelerden hangisine göre daha önce uygulamaya koymuştur?

- A) Ulusçuluk B) Halkçılık
- C) Laiklik D) Devletçilik
- E) Devrimcilik

87. Atatürk ilkelerinden laiklik: Dinin bir vicdan konusu olduğundan hareket ederek din işleriyle devlet işlerini birbirinden ayırmak bilimi devlet ve toplum yaşamında egemen kılmaktır. Buna göre aşağıdakilerden hangisi laikliği bütünüleyen ilkelere aittir?

- A) Ulusal birlik ve beraberlik
- B) Akılcılık ve bilimsellik
- C) İnsan ve insan sevgisi
- D) Özgürlük ve bağımsızlık
- E) Ulusal egemenlik

88. "Özgürlük ve bağımsızlık benim karakterimdir." diyen Atatürk, yeni devletin kurulmasında bu düşüncesinden güç almıştır. Atatürk'ün özgürlük ve bağımsızlık düşüncesi aşağıdaki temel ilkelere-den daha çok hangisiyle uygulama ortamı bulmuştur?

- A) Milliyetçilik
- B) Cumhuriyetçilik
- C) İnkılapçılık
- D) Devletçilik
- E) Laiklik

89. Cumhuriyet dönemindeki

- I. Toprak reformu yapılması
- II. Aşar vergisinin kaldırılması
- III. Ayrıcalık belirten ünvanların yasaklanması

- Gelişmeleri aşağıdaki ilkelerden hangisiyle ilgilidir?
- A) Devletçilik B) Cumhuriyetçilik
C) Laiklik D) Ulusçuluk
E) Halkçılık
90. Yeni Türk devletinde,
I. Saat ve takvim sisteminin değiştirilmesi
II. Türk tarihinin en eski dönemlerinin araştırılması
III. Ağırlık ve uzunluk ölçülerinin değiştirilmesi
IV. Türkçe'nin en eski kaynaklarının araştırılması
Gibi gelişmelerden hangileri ulus anlayışının gelişmesine katkı sağlama amacına yöneliktir?
- A) I-II B) II-IV C) III-IV
D) Yalnız IV E) I-II-IV
91. Türkiye'de tarımda görülen aşağıdaki gelişmelerden hangisi sulanabilen alanların genişletilmesine bağlı değildir?
- A) Tarımsal verimin artması
B) Mera hayvancılığının gelişmesi
C) Nadasa ayrılan toprakların azalması
D) Endüstri bitkileri üretiminin yaygınlaşması
E) Su isteği yüksek ürünlerin ekim alanının genişlemesi
92. İç Anadolu bölgesinin aşağıdaki özelliklerinden hangisi üzerinde iklimin etkisi yoktur?
- A) Nüfusun daha çok dağ eteklerinde toplanması
B) Nadas uygulamasının yaygın olması
C) Orman oranının az olması
D) Tarımsal ürün çeşidinin az olması
E) Bölge içi ulaşımın kolay olması
93. Bir bölgede yaygın olarak makineli tarım yapılması, tarım alanlarının geniş ve engebelliğin az olmasına bağlıdır. Buna göre aşağıdaki bölümlerin hangisinde tarımda makine kullanımının daha zor olması beklenir?
- A) Güney Marmara Bölümü
B) Orta Fırat Bölümü
C) Yukarı Kızılırmak Bölümü
D) Konya Bölümü
E) Kıyı Ege Bölümü
94. 2000 yılı sayım sonuçlarına göre nüfus yoğunlukları Türkiye ortalamasının altında olan aşağıdaki kentlerin hangisinde nüfus yoğunluğunun azlığı diğerlerine göre farklı bir nedene dayanır?
- A) Aksaray B) Sivas
C) Artvin D) Hakkari
E) Çanakkale
95. Aşağıdakilerden hangisinde, Batı Karadeniz bölümündeki bir yöre bu yörede bulunmayan bir endüstri koluyla birlikte verilmiştir?
- A) Karabük-Petrokimya
B) Çaycuma - Kağıt
C) Çatalağzı - Elektrik enerjisi
D) Ereğli - Demir çelik
E) Sinop - Cam
96. Ülkemizde maden yatakları ve çeşitliliği bakımından en zengin bölüm aşağıdakilerden hangisidir?
- A) Orta Fırat Bölümü
B) Batı Karadeniz Bölümü
C) Güney Marmara Bölümü
D) Yukarı Fırat Bölümü
E) İç Batı Anadolu Bölümü
97. Trabzon'un bir liman kenti olarak Rize ve Giresun'a oranla daha çok gelişmiş olması aşağıdakilerden hangisi ile açıklanabilir?
- A) Şehirde yaşayan nüfusun daha fazla olması
B) Yüzey şekillerinin daha sade olması
C) İç bölgelerle ulaşımın geçitlerle sağlanması
D) Balıkçılığın gelişmiş olması
E) Nemli iklim koşulları
98. Türkiye'de akarsular, saniyede akıttıkları toplam su miktarı bakımından fazla zengin sayılamaz ancak enerji potansiyeli bakımından oldukça zengindir. Bu durum aşağıdakilerden hangisine kanıt olabilir?
- A) Akarsu rejimlerinin düzensiz olduğunu,
B) Akarsularımızın menderesler oluşturduğuna
C) Akarsu yatak eğiminin fazla olduğuna
D) Akarsuların yer altı suları ile beslendiğine
E) Akarsuların kar suları ile beslendiğine
99. Ülkemizde Van gölü ve Konya ovası çevresinde suları denize ulaşamayan kapalı havzalar bulunur.

- I. Denize uzaklık
- II. Yağış rejimi
- III. Yer şekilleri
- IV. Yükseklik

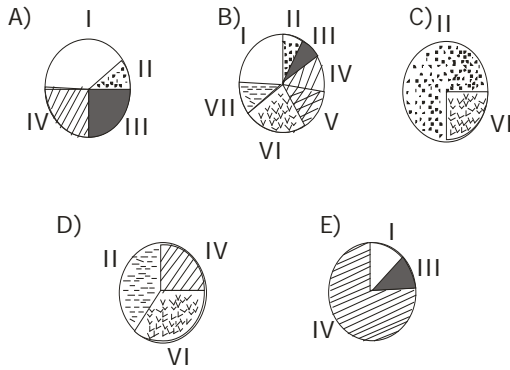
Bu tür kapalı havzaların oluşmasında yukarıdaki faktörlerden hangisi ya da hangilerinin etkili olduğu söylenebilir?

- A) Yalnız I B) Yalnız II C) III-IV
- D) II-III E) Yalnız III

100. Aşağıdaki göllerden hangisinin oluşumunda doğal setleşmelerin etkisi yoktur?

- A) Bafa Gölü
- B) Büyük Çekmece
- C) Van Gölü
- D) Tuz Gölü
- E) Köyceğiz Gölü

101. Bir tarım ürününün bir ülke içindeki yetişme alanı ne kadar yaygınsa o ülke koşullarına uyumu o kadar iyi demektir. Aşağıda, Türkiye'nin coğrafi bölgelerine göre dağılışı verilen ürünlerin toplam üretimleri birbirine yakın olduğuna göre bunlardan hangisinin Türkiye koşullarına diğerlerine göre daha uyumlu olduğu söylenebilir?



102. Divriği, Hekimhan ve Edremit yörelerinin bulunan maden aşağıdakilerden hangisidir?

- A) Demir B) Kurşun C) Linyit
- D) Bakır E) Civa

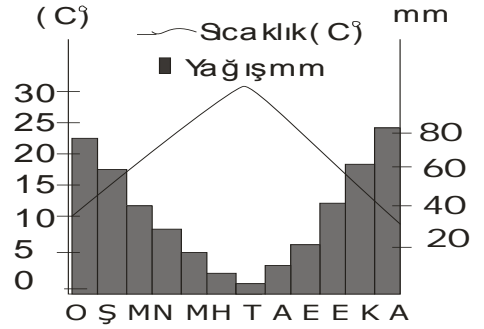
103. Aşağıdaki yörelerin hangisinde Alüminyum işletmesi bulunmak-tadır?

- A) Ereğli B) Kırıkkale C) İzmir
- D) Seydişehir E) Batman

104. Ülkemizde iklim ve doğal bitki örtüsü çeşitliliğinin fazla olmasın-da aşağıdakilerden hangisinin etkisi yoktur?

- A) Yer şekilleri
- B) Denize göre konum
- C) Yükseklik
- D) Dağların uzanışı
- E) Bölgelerin genişliği

105.



Yukarıda bir yörenin aylık ortalama sıcaklık ve yağış grafiği verilmiştir.

Grafikten yararlanarak bu yöreyle ilgili aşağıdaki bilgilerden hangisi elde edilemez?

- A) En düşük ay sıcaklık değerleri
- B) Yıllık toplam yağış miktarı
- C) Yağış rejimi
- D) Doğal bitki örtüsü
- E) Deniz seviyesinden yüksekliği

106. Aşağıdaki limanlarımızdan hangi-sinin iç bölgelerle Demiryolu bağlantısı bulunmaz?

- A) İstanbul B) İzmir C) Samsun
- D) Trabzon E) Zonguldak

107. Aşağıdakilerden hangisi ithal ettiğimiz ürünler arasında yer almaz?

- A) Petrol

- B) Çimento
C) İlaç
D) Suni gübre
E) Kahve
- 108.Ülkemizdeki elektrik enerjisinin büyük bir kısmı termik santrallerden sağlar. Bu santrallerde hammadde olarak taşkömürü, linyit, doğalgaz gibi enerji kaynakları kullanılır. Buna göre aşağıdaki santralle-rimizden hangisinde enerji kaynağı olarak taşkömürü kullanılır?
- A) Çayırhan
B) Ambarlı
C) Çatalağzı
D) Yatağan
E) Elbistan
- 109.1990 yılı verilerine göre ülkemiz nüfusunun yaklaşık %13'ü sanayi sektöründe çalışmaktadır. Sanayide çalışan bu nüfusun en fazla istih-dam edildiği sektör aşağıdaki-lerden hangisidir?
- A) Dokuma, deri ve giyim sanayi
B) Çimento, cam ve seramik sanayi
C) Besin sanayi
D) Kimya sanayi
E) Maden sanayi
110. Aşağıdakilerden hangisi 2004 yılı içerisinde yapılan ve Gelişmiş sekiz ülkenin katıldığı toplantının ana amacını oluşturur?
- A) Rusya krizi
B) Irak'ın siyasal yapılandırılması
C) Ortadoğu projesi
D) Pazar paylarının dağılımı
E) Üye ülkelerin sosyal politikalarının gelişimi
- 111.Olağanüstü hal ilan etme yetkisi aşağıdakilerden hangisine aittir?
- A) Cumhurbaşkanı
B) Cumhurbaşkanı başkanlığında top-lanacak Bakanlar kurulu
C) Başbakan
D) TBMM
E) Başbakanlık
- 112.Aşağıdakilerden hangisi merkezi idare teşkilatı arasında yer almaz?
- A) Bakanlıklar
B) Bakanlar Kurulu
C) Belediye idaresi
D) Başbakan
E) Cumhurbaşkanı
- 113.Aşağıdakilerden hangisi NATO'nun kurucu ülkelerinden biri değildir?
- A) Lüksemburg
B) İzlanda
C) Fransa
D) Kanada
E) Yunanistan
- 114.Aşağıdakilerden hangisi sosyal devleti gerçekleştirmeye yönelik hukuki yöntemlerden biri değildir?
- A) Vergi adaleti
B) Zor alım
C) Kamulaştırma
D) Devletleştirme
E) Planlama
- 115.Siyasi partilerin kapatılma davası hangi yargı merciinde görülür?
- A) Ceza mahkemesi
B) Anayasa mahkemesi
C) Yargıtay
D) Danıştay
E) Yüksek seçim kurulu
- 116.Aşağıdakilerden hangisi Cumhur-başkanının yasama yetkilerinden-dir?
- A) Kanunları yayımlamak
B) Yüksek hakimleri seçmek
C) Cezaları hafifletmek
D) Başbakanı atamak
E) Milli güvenlik kuruluna başkanlık etmek
- 117.1982 Anayasa'sına göre temel hak ve hürriyetlerin sınırlandırılmasına ilişkin aşağıda verilen ifadelerden hangisi doğrudur?
- A) 2001 yılında yapılan değişikliklerle temel hak ve hürriyetlerin sadece sıkıyönetim veya olağanüstü hal durumlarında sınırlandırılabilceği öngörülmüştür.
B) 2001 yılında yapılan değişikliklerle temel hak ve hürriyetlerin her biri için geçerli olan özel sınırlama nedenleri kaldırılarak tümü için geçerli genel sınırlandırma nedenlerine yer verilmiştir.

- C) 2001 yılında yapılan değişikliklerle temel hak ve hürriyetlerin hem tümü için geçerli genel sınırlandırma nedenlerine hem de sadece bazı temel hak ve hürriyetler için geçerli özel sınırlandırma nedenlerine yer verilmiştir.
- D) 2001 yılında yapılan değişikliklerle temel hak ve hürriyetlerin tümü için geçerli mevcut genel sınırlama nedenleri kaldırılmış ve hemen bütün temel hak ve hürriyet için ayrı ayrı özel sınırlama nedenleri düzenlenmiştir.
- E) 2001 yılında yapılan değişikliklerle temel hak ve hürriyetler için zaten mevcut olan özel sınırlandırma nedenleri daraltılarak korunmuş zaten bulunmayan genel sınırlama nedenlerine yönelik bir hüküm tesisine gidilmemiştir.

118.1982 Anayasasında Anayasa değişikliği ile ilgili olarak,

- I. Ayrı bir kurucu meclis oluşturulması
II. Bazı hükümlerin değiştirilmesinin tamamen yasaklanması
III. Bir değişiklik yapıldıktan sonra belli bir süre geçmedikçe yeni bir değişiklik yapılamaması
IV. Teklif ve kabul yeter sayısının kanunlarınkine göre daha yüksek olması
V. Bazı durumlarda referanduma başvurulmasının zorunlu olması
- Düzenlemelerinden hangileri be-nimsenmiştir?

- A) I-II-IV B) I-III-V C) II-III-IV
D) II-IV-V E) III-IV-V

119.Sermayenin % 50 sinden fazlası iktisadi devlet teşekkülüne veya bir kamu iktisadi kuruluşuna ait olan işletme veya işletmeler topluluğundan oluşan A.Ş lere ne ad verilir?

- A) Müessese
B) Ticaret şirketi
C) Esnaf
D) Bağlı ortaklık
E) KİT

120.Aşağıdakilerden hangisi gelişmek-te olan ülkelerin yaşamış olduğu yüksek oranlı ve kronikleşmiş enflasyon sorununun çözümü için başvurulan bir yöntemdir?

- A) Merkez Bankasının denetimini arttırmak
B) Faiz oranlarını düşürmek
C) Para kurulunu faaliyete geçirmek
D) Döviz kurunu yükseltmek
E) Sermaye piyasasını serbestleştirmek

1.D	31.D	61.A	91.B
2.A	32.E	62.E	92.E
3.C	33.A	63.D	93.C
4.A	34.B	64.C	94.A
5.D	35.D	65.B	95.A
6.A	36.E	66.C	96.D
7.C	37.B	67.B	97.C
8.E	38.D	68.D	98.C
9.E	39.E	69.C	99.E
10.E	40.E	70.A	100.D
11.E	41.C	71.C	101.B
12.E	42.A	72.D	102.A
13.A	43.C	73.B	103.D
14.B	44.D	74.B	104.E
15.B	45.D	75.E	105.E
16.B	46.A	76.A	106.D
17.D	47.B	77.D	107.B
18.D	48.C	78.B	108.C
19.B	49.A	79.D	109.A
20.E	50.C	80.E	110.C
21.C	51.B	81.E	111.B
22.E	52.D	82.E	112.C
23.C	53.D	83.D	113.E
24.E	54.A	84.B	114.B
25.C	55.B	85.C	115.B
26.A	56.E	86.A	116.A
27.E	57.E	87.B	117.D
28.B	58.A	88.B	118.D
29.C	59.E	89.E	119.D
30.C	60.D	90.B	120.C